


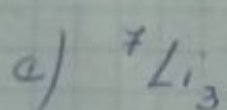
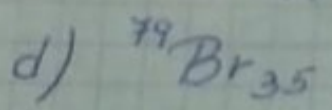
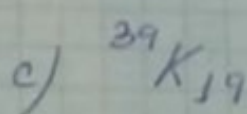
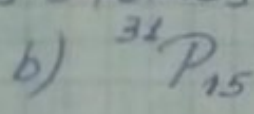
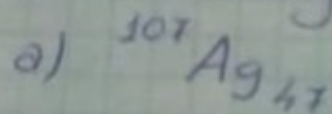
MAIL DEL PROFE BUSTAMANTE PARA ENVIAR LAS ACTIVIDADES:
juliobustamante@hotmail.com.ar

Estructura atómica

Ejercicio: Completar la siguiente tabla

Nombre	Símbolo	Z	A	p ⁺	e ⁻	n ^o
Cromo	Mn	46	51	28	28	28
	Te		35			18
Rubidio		75			28	42
Yodo	K					

Ejercicio: ¿Cuántos protones, neutrones y electrones tienen los siguientes átomos?



Ejercicio: Elabora un cuadro con los siguientes átomos indicando debajo de cada uno de ellos, en columnas separadas, el número de protones, el de protones más neutrones, el de neutrones y el de electrones que poseen:

